



**EVALUAREA COMPETENȚELOR FUNDAMENTALE
LA FINALUL CLASEI a II-a**

2015

Test 2

MATEMATICĂ

Județul / sectorul.....

Localitatea.....

Școala.....

Numele și prenumele elevei / elevului.....

.....

Clasa a II-a.....

Băiat


Fată

Bacău - 1650
SCOALA GIMNAZIALA NR 1 ONESTI

Bacău - 1650
SCOALA GIMNAZIALA NR 1 ONESTI

EN_II_Matematica

Cei 24 de elevi din clasa a II-a, împreună cu doamna învățătoare, au mers să viziteze o grădină în care creșteau flori de primăvară. S-au plimbat prin grădină împreună cu grădinarul. Copiii au pus întrebări, iar grădinarul le-a răspuns și le-a explicat multe lucruri. Mai întâi, grădinarul le-a spus câte flori de primăvară cresc în grădină. Numărul acestora este scris în tabelul de mai jos.

			
156 narcise	83 lalele	124 zambile	90 ghiocci

1. Câte lalele și zambile sunt în total în grădină? Întreabă Bogdan.
Încercuiește litera corespunzătoare răspunsului corect.

- a) 107
- b) 197
- c) 207
- d) 277

Nu se completează de către elev
 COD

1.

2. Ioana și Victor au comparat numărul narciselor cu numărul zambilelor.
Scrive, în căsuța de mai jos, unul dintre semnele $<$, $=$, $>$ pentru ca relația să fie corectă.

156 124

Nu se completează de către elev
 COD

2.

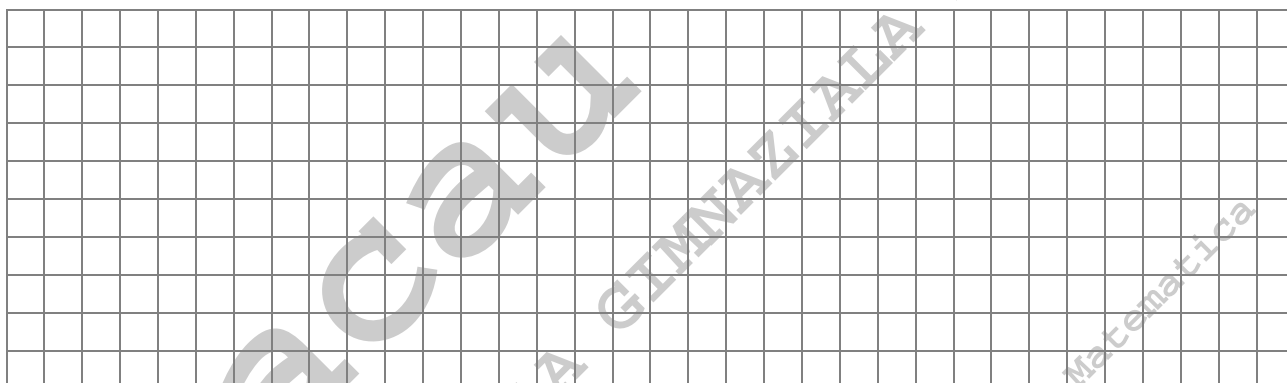
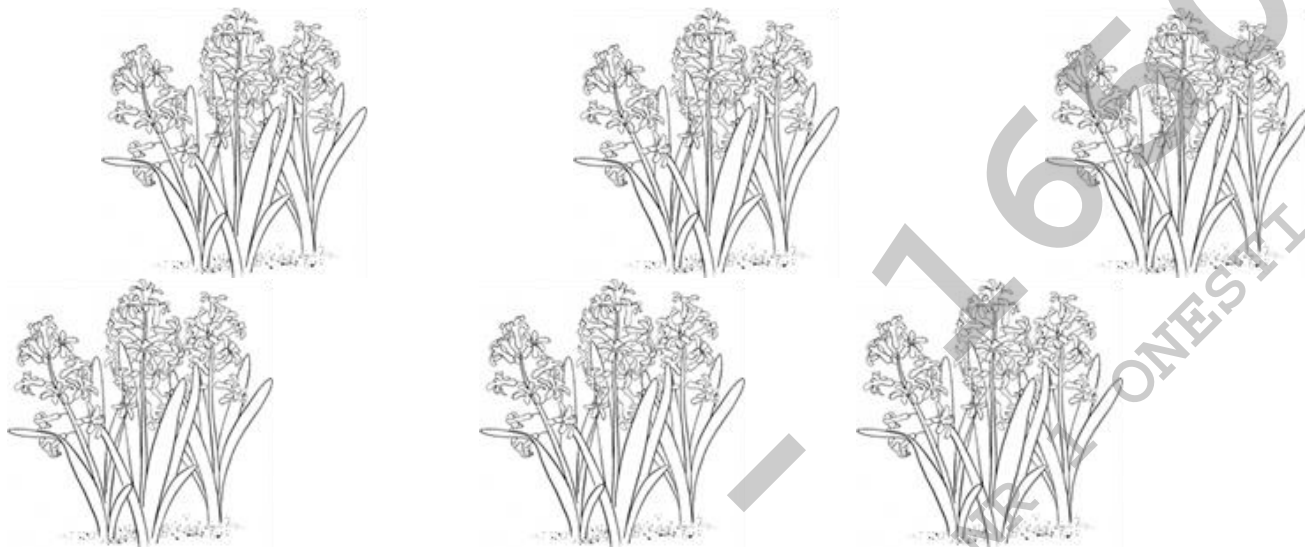
3. Cu cât este mai mare numărul **narciselor** decât cel al **zambilelor**? Întreabă Diana.
Încercuiește litera corespunzătoare răspunsului corect.

- a) 32
- b) 132
- c) 133
- d) 232

Nu se completează de către elev
COD

3.


4. Elevii au cules câteva zambile și au făcut buchețele, ca în imaginea de mai jos.
– Câte zambile ați cules? Întreabă grădinarul.
Află rezultatul prin adunare repetată de termeni egali.
Scris, pe spațiul dat, rezolvarea problemei.



Nu se completează de către elev
COD

4.

7. Elevii au realizat un afiș cu imagini ale florilor de primăvară din grădină, pe care le-au așezat ca în imaginea de mai jos. În ce parte a afișului au așezat **imaginea cu lalele**?
Încercuiește litera corespunzătoare răspunsului corect.




- a) în partea de jos;
- b) în partea de sus;
- c) în partea dreaptă;
- d) în partea stângă.

Nu se completează de către elev
COD

7.

8. Oana și Mihai se oferă să ajute la adunatul narciselor. Află câte narcise adună cei doi copii, știind că Oana a adunat 4 buchete a câte 10 narcise fiecare, iar Mihai a adunat 6 buchete a câte 5 narcise fiecare.

Scrive, pe spațiul dat, rezolvarea problemei.



Nu se completează de către elev
COD

8.

9. Florile de primăvară au fost plantate pe un teren de formă dreptunghiulară.


Încercuiește litera corespunzătoare formei geometrice pe care o are terenul.

- a) cerc;
- b) dreptunghi;
- c) pătrat;
- d) triunghi.

Nu se completează de către elev
COD

9.

10. Mircea și Ana au așezat câteva flori ca în șirul de mai jos.
 – Ce flori urmează în șir? a vrut să afle grădinarul.
Încercuiește litera corespunzătoare răspunsului corect.



Nu se completează de către elev
 COD

10.

11. Copiii au stat în grădina de flori de la ora 10.00 până la ora 13.00. Câte ore au petrecut copiii în grădina de flori?

Încercuiește litera corespunzătoare răspunsului corect.

- a) 2 ore;
- b) 3 ore;
- c) 4 ore;
- d) 5 ore.

Nu se completează de către elev
COD

11.

12. Grădinarul îi duce pe elevi la florărie, unde se vând flori din grădină. Prețul unui fir din fiecare floare este scris în tabelul de mai jos:

Flori	Preț
narcise	4 lei
lalele	3 lei
zambile	5 lei
ghiocei	2 lei

Radu are 20 lei. Poate el să cumpere câte 1 fir din fiecare floare?

Explică, în spațiul dat, răspunsul tău.

Da, pentru că _____

Nu, pentru că _____

Nu se completează de către elev
COD

12.

FELICITĂRI, AI AJUNS LA SFÂRȘITUL TESTULUI!

MULȚUMIM PENTRU PARTICIPARE!